

Le grenier du monde

Doc. 1 La puissance agricole des Grandes plaines



A Élevage intensif au Texas



B Paysage céréalier du Colorado



Paysage des Grandes Plaines aux États-Unis

- 1
- 2
- 3

Feedlots aux États-Unis



- 1
- 2
- 3

1. D'après le document 1, dans quels États d'Amérique ces paysages sont-ils situés ?

2. Écrivez sur les photographies la lettre correspondant à chaque élément du paysage :




**Photographie A :** 1 Route 2 Équipements pour l'alimentation du bétail 3 Enclos à bétail

**Photographie B :** 1 Ferme 2 Champs rectangulaires 3 Route

3. D'après les documents 1 et 2, quels sont les deux types de production qui font la puissance agricole des États-Unis ?

4. Quels éléments des photographies montrent le caractère intensif de cette agriculture ?

**Doc. 2** L'importance des productions agricoles américaines en 2009

	CULTURES				ÉLEVAGE		
	Maïs 	Soja 	Blé 	Coton 	Bœufs/Veaux 	Porcs 	Volailles 
Production (en % de la production mondiale)	38,6 %	38 %	10 %	12 %	21 %	10 %	25 %
Rang mondial	1 <sup>er</sup>	1 <sup>er</sup>	5 <sup>e</sup>	3 <sup>e</sup>	1 <sup>er</sup>	3 <sup>e</sup>	1 <sup>er</sup>
Exportations (en % des exportations mondiales)	57 %	40 %	19 %	35 %	12 %	33 %	37 %
Rang mondial	1 <sup>er</sup>	1 <sup>er</sup>	1 <sup>er</sup>	1 <sup>er</sup>	3 <sup>e</sup>	1 <sup>er</sup>	1 <sup>er</sup> /2 <sup>e</sup>

Source : USDA, NASS & FASS.

5. Sur le document 2, entourez les deux principales productions agricoles et animales.

6. En vous aidant du document 2, montrez que :

- l'agriculture des Grandes plaines est très productive.

- cette agriculture occupe une place capitale dans les échanges mondiaux.

**Kellogg's**®



1. **Soulignez**, dans le texte, les trois facteurs expliquant la place de l'agriculture américaine dans le monde.
2. Entourez ce que représentent les exportations américaines dans le commerce agricole mondial.
3. **Soulignez** en vert la définition d'agribusiness. Par qui ce secteur est-il contrôlé ?



**Cargill**



**GENERAL MILLS**

4. Dans quel secteur de haute technologie ces entreprises investissent-elles ?

5. D'après le texte et la carte, citez le nom de quelques entreprises agroalimentaires mondialement connues.



**MONSANTO**  
BIOTECHNOLOGY  
innovation - collaboration - speed



**PEPSICO**

## Doc. 1 La première puissance agricole mondiale

« L'immensité du territoire associée à une organisation et une technologie remarquables expliquent les scores impressionnants de la première agriculture du monde qui occupe moins de 2 % des actifs.

Plus du cinquième de la production est exporté, ce qui représente environ le tiers du commerce agricole mondial. Cela explique le rôle clef joué par la bourse aux grains de Chicago qui fixe les prix du blé, du maïs ou du soja.

L'agriculture américaine est parfaitement intégrée aux marchés mondiaux comme elle l'est dans l'économie nationale via l'agribusiness<sup>1</sup>. Le secteur est contrôlé par une poignée de grands groupes comme Cargill, Conagra, ADM ou General Mills, qui ont acquis nombre d'intermédiaires et passé des contrats exclusifs avec d'une part des agriculteurs et des éleveurs, d'autre part des chaînes de magasins ou de restauration rapide, des compagnies aériennes, des écoles ou l'armée.

Enfin les États-Unis ont très rapidement investi dans les biotechnologies. Les OGM en représentent l'illustration la plus emblématique : les États-Unis y consacrent les surfaces les plus importantes au monde et le premier producteur mondial de semences OGM, Monsanto, est américain. »

D'après *La Documentation photographique*, n° 8056, mars-avril 2007.

1. L'ensemble des activités impliquées dans la transformation et la distribution des produits agricoles.



6. Sur la carte, entourez le nom de la région des États-Unis où elles ont majoritairement leur siège.
7. Sur la carte, coloriez, selon la légende, les régions d'agriculture destinée aux exportations.
8. Sur la carte, soulignez le nom des trois principaux ports d'exportation de céréales.
9. D'après le texte et la carte, quel élément montre que les États-Unis contrôlent les prix des matières premières agricoles ?

